

地 理

解答はすべて解答用紙の指定された場所に記入すること。

I 国際理解と国際協力に関する次の(1)、(2)の問1～問11に答えよ。

(1) 生活文化の多様性について下の問1～問5に答えよ。

問1 世界のおもな言語人口のうち、中国語に次いで2番目に多いものとして最も適切なものを、①～④の中から1つ選んでマークせよ。なお、言語人口は第一言語の区分による。

①アラビア語 ②英語 ③スペイン語 ④ヒンディー語

問2 各国で信仰されている宗教について説明した文章中の下線部について内容が適当でないものを、①～④の中から1つ選んでマークせよ。

インドネシアは国民の約9割がムスリムであり、①世界で最もムスリムの数が多い国である。2002年に独立を果たした東ティモールは、②インドネシアと同じく国民の大半がムスリムである。また、スーダンでは③国民の半数以上がムスリムである。2011年に独立を果たした南スーダンでは、④ムスリムは少数派である。

問3 「世界一寒い村」と言われるロシアのオイミヤコンでは、気温の年較差が60度を超えている。オイミヤコンの年較差がこのように大きくなる要因の一つとして最も適切なものを、①～④の中から1つ選んでマークせよ。

① 隔海度が大きく、大陸性気候の特徴をもっている。
② 観測地点が標高3,000mを超える高山地帯に位置している。
③ 高緯度に位置し、永久凍土が広がっている。
④ フェーン現象が発生しやすく、夏季の月平均気温が25度を超える。

問4 アンデス地方にみられる気候の特徴と人間生活について説明した文章中の下線部について内容が適当でないものを、①～④の中から1つ選んでマークせよ。

アンデス地方の気候は気温の①年較差が小さく、気温の②日較差が大きい。アンデス地方が原産地である③ジャガイモの栽培や、衣料用の毛を刈り取るための④ヤクの飼育がおこなわれている。

問5 乾燥地域の生活について説明した文として適当でないものを、①～④の中から1つ選んでマークせよ。

① 暑さを避け風通しを良くするため、家屋の窓は大きく開放的につくられている。
② 建築材料となる樹木が少ないため、家屋は泥や日干しレンガでつくられている。
③ 降水量が非常に少ない地域のため、家屋の多くは平屋根となっている。
④ 実を食用とするため、集落周辺にはナツメヤシが植えられている。

(2) 人口問題について下の問6～問11に答えよ。

問6 2023年時点での世界の人口として最も適切なものを、①～④の中から1つ選んでマークせよ。

①約60億人 ②約70億人 ③約80億人 ④約90億人

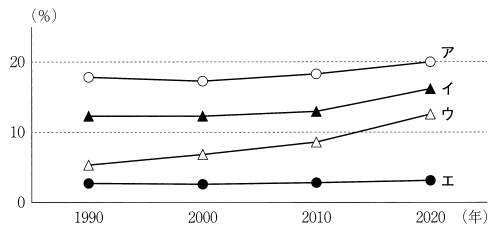
問7 2024年における日本の合計特殊出生率の値として最も適切なものを、①～④の中から1つ選んでマークせよ。

①0.85 ②1.15 ③1.45 ④1.75

問8 2024年における日本への外国人入国者数として最も適切なものを、①～④の中から1つ選んでマークせよ。

①約60万人 ②約3,600万人 ③約6,600万人 ④約9,600万人

問9 図1は、65歳以上の人口がその国の総人口に占める割合の推移を示したものであり、①～④の文は図1中のア～エのいずれかの国について説明したものである。ウの国に該当するものとして最も適切なものを、①～④の中から1つ選んでマークせよ。 9

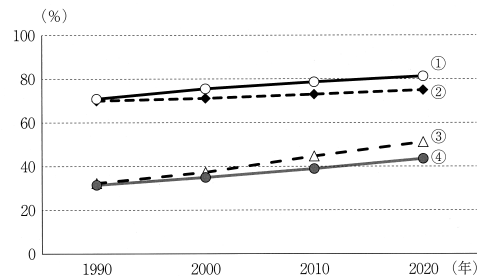


〔世界国勢図会 2024/25年版〕により作成。

図1

- ①急速な経済成長による少子化の進行が著しく、年齢別人口構成も先進国に近い形となってきている。
- ②国内に居住する出生率の比較的高い人々によって先進国のなかでは高い出生率を維持している。
- ③出生率が高く、死亡率が低いために人口の急激な増加が続いている発展途上国である。
- ④早くから少子化が進んできた先進国であり、福祉政策が充実し一人当たりの社会保障費が高い。

問10 図2は、アジア、アフリカ、ヨーロッパ、中南アメリカにおける都市人口割合の推移を示したものである。中南アメリカに該当するものとして最も適切なものを、①～④の中から1つ選んでマークせよ。 10

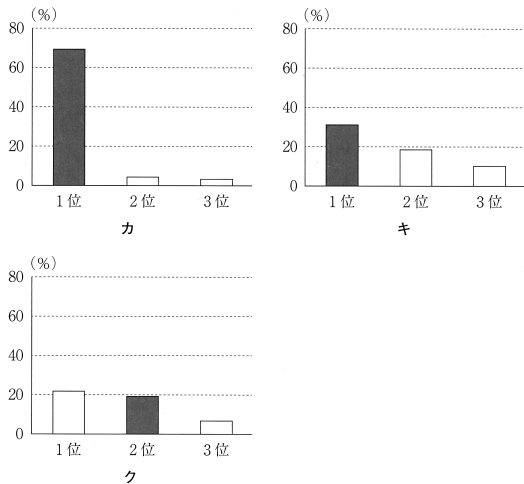


〔世界国勢図会 2024/25年版〕により作成。

図2

問11 図3中のカ〜クは、静岡県、東京都、長崎県のいずれかにおける人口上位3都市が各都県の総人口に占める割合を示したものである。都県名とカ〜クとの組合せとして最も適切なものを、①〜⑥の中から1つ選んでマークせよ。

11



統計年次は2020年。都県庁所在地（東京都は特別区）を着色している。令和2年国勢調査により作成。

図3

	①	②	③	④	⑤	⑥
静岡県	カ	カ	キ	キ	ク	ク
東京都	キ	ク	カ	ク	カ	キ
長崎県	ク	キ	ク	カ	キ	カ

II 持続可能な地域づくりに関する次の(1)、(2)の間1～問11に答えよ。

(1) 自然環境と防災について下の問1～問5に答えよ。

問1 概ね過去1万年以内に噴火した火山及び現在活発な噴気活動のある火山のことを活火山と呼ぶ。2024年時点で日本国内に存在する活火山の数として最も適切なものを、①〜④の中から1つ選んでマークせよ。

12

- ①111 ②222 ③333 ④444

問2 次の文章中の空欄A・Bに当てはまる語句の組合せとして最も適切なものを、①〜④の中から1つ選んでマークせよ。

13

阪神・淡路大震災は、(A)年1月17日午前5時46分に淡路島北部を震源に発生したマグニチュード7.3の大地震(兵庫県南部地震)による大災害である。(B)地震が発生し最大震度7の揺れが都市を襲った。

	①	②	③	④
A	1995	1995	2004	2004
B	海溝型	直下型	海溝型	直下型

問3 ア、イの文の正誤の組合せとして最も適切なものを、①〜④の中から1つ選んでマークせよ。

14

ア 日本には多くの活火山があり、世界の活火山の1割近くを占めている。
イ 2011年に発生した東北地方太平洋沖地震の規模はマグニチュード9.0であり、観測史上世界最大であった。

	①	②	③	④
ア	正	正	誤	誤
イ	正	誤	正	誤

問4 地球科学的に重要な地形や地質を保全し、それに関する文化的資源も含めて観光や教育に活用することで、持続可能な開発をめざす自然公園の名称として最も適切なものを、①～④の中から1つ選んでマークせよ。

15

- ①国定公園 ②国立公園 ③ジオパーク ④世界自然遺産

問5 局地的に短時間で降る激しい豪雨は「ゲリラ豪雨」と呼ばれることがある。これについて説明した文として**適当でないもの**を、①～④の中から1つ選んでマークせよ。

16

- ①一時的な現象であり、長くても1時間程度のものである。
②特に気温が上昇する夏の時期に発生しやすい。
③都心部のヒートアイランド現象は、ゲリラ豪雨を発生しやすくする可能性がある。
④ゲリラ豪雨をもたらす雨雲が移動し、一か所に集まることで線状降水帯が形成される。

(2) 山形県鶴岡市の地域調査について下の問6～問11に答えよ。

問6 図4に位置する鶴岡市のおおよその緯度と経度として最も適切なものを、

①～④の中から1つ選んでマークせよ。

17

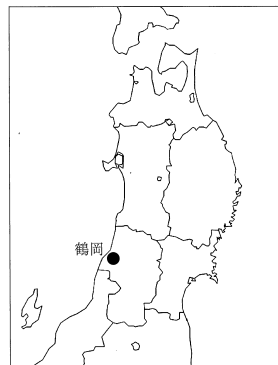
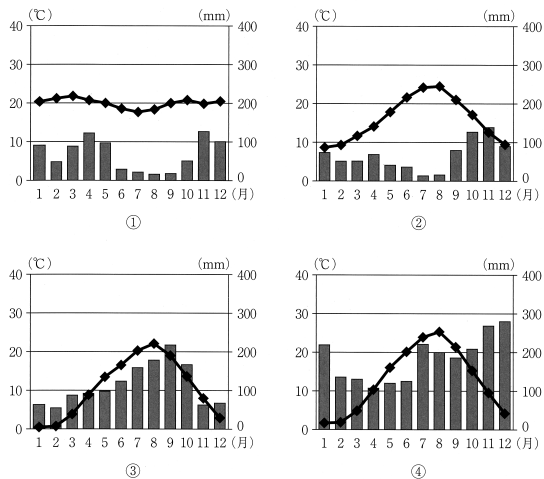


図4

- ①北緯38度43分 東経135度49分 ②北緯38度43分 東経139度49分
③北緯41度43分 東経135度49分 ④北緯41度43分 東経139度49分

問7 日本海側の気候の特徴を示す鶴岡市の雨温図として最も適切なものを、図5中の①～④の中から1つ選んでマークせよ。 18



気象庁資料により作成。

図5

問8 鶴岡市のように日本海側の気候の特徴を示す地域でみられる写真1と写真2について説明したカ、キの文の正誤の組合せとして最も適切なものを、①～④の中から1つ選んでマークせよ。 19



写真1



写真2

- カ 写真1のように、日照時間が短い冬季でも信号機の色が見えやすいように縦型のものが設置されている。
- キ 写真2のように、積雪により道路上の中央線が見えないことがあるため中央線の位置を示す標識が設置されている。

	①	②	③	④
カ	正	正	誤	誤
キ	正	誤	正	誤

問9 文章中の空欄Xに当てはまる語として最も適切なものを、次の①～④の中から1つ選んでマークせよ。 20

鶴岡市は気高い山々から広大な庄内平野、日本海へと至る変化に富んだ地形の中で、山海の幸に恵まれた豊かな食文化を有しています。1400年以上にわたり信仰を集める山岳修験の聖地「出羽三山」は自然とその山の恵みを「生きるための精進料理」として今に伝え、家庭でも祭りと精神性を分かち合う「行事食・伝統食」が数多く継承されています。また、農家の人々が数百年にわたり「種」を守り継いできた「在来作物」は60種類以上が確認され、生きた文化財として継承されています。このような歴史と食文化の背景から、鶴岡市は2014年12月に「(X) 食文化創造都市」として、日本唯一の認定を受けています。

文化庁ホームページにより作成。

①UNEP ②UNESCO ③UNHCR ④UNICEF

問10 鶴岡市温海地域の山間部では伝統的な農法で在来作物が栽培されている。この作物の栽培基準に関する文章中の空欄Yに当てはまる語として最も適切なものを、次の①～④の中から1つ選んでマークせよ。 21

(Y) あつみかぶの栽培基準

- (1) 栽培地域は、鶴岡市温海地域内であること。
- (2) 栽培圃場は、山林、原野又は原野化した農地であること。
- (3) 品種は、温海地域在来品種「温海かぶ」であること。
- (4) 原産地である一貫集落で生産された種子のみを使用すること。
- (5) 圃場内に自生している草木を刈り払い、(Y) を行い、耕起作業を行わずそのまま栽培すること。
- (6) 圃場の再利用を行う場合は、適度な腐植の蓄積（概ね4～5年）を待って栽培すること。

(Y) あつみかぶブランド方向対策協議会ホームページにより作成。

①混合農業 ②三圃式農業 ③二毛作 ④焼畑

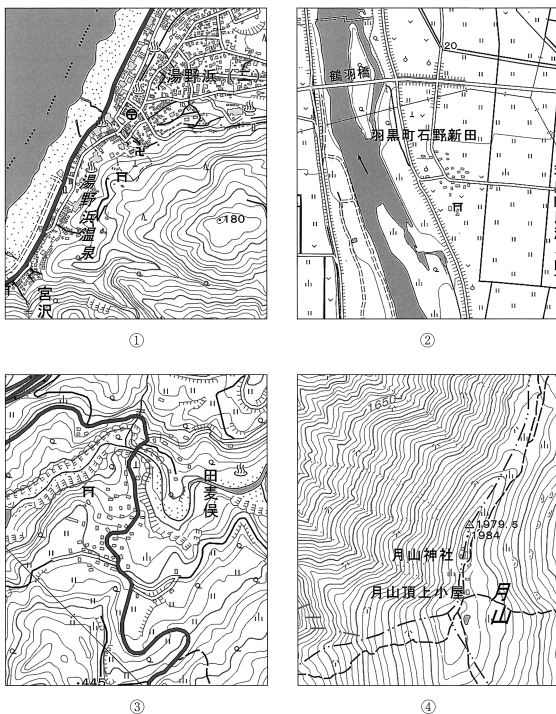
問11 資料1は、山形県有形指定文化財の旧遠藤家住宅について説明したものである。この住宅がある地域として最も適切なものを、図6中の①～④の中から1つ選んでマークせよ。 22



「旧遠藤家住宅」は、兜造り多層民家の代表的な建物である。内部は、一階が主に家族の居住用として、二階は下男たちの居住用及び作業場・物置として使われた。その上に養蚕と作業のための三階「チシ（ツシ）」、さらにその上に物置用の「天井チシ（ツシ）」がある。この地方は、土地が狭いうえに積雪が多く、建物の増築が困難であったため、毎日の暮らしと作業、養蚕のための部屋が一つの建物の中にまとめられ、多層の造りになったと推定されている。

鶴岡「サムライゆかりのシルク」推進協議会ホームページなどにより作成。

資料1



地理院地図により作成。

図6

Ⅲ ヨーロッパの地理的事象に関する次の(1)、(2)の間1～間11に答えよ。

(1) 間1～間3に当てはまる国を、次の①～⑥の中からそれぞれ1つずつ選んでマークせよ。

- | | | |
|---------|--------|---------|
| ①イタリア | ②スイス | ③スウェーデン |
| ④フィンランド | ⑤ポルトガル | ⑥ラトビア |

問1 国土の約7割が森林、約1割が湖沼と河川であることから「森と湖の国」と呼ばれる。ロシアのウクライナ侵攻後には北大西洋条約機構（NATO）に正式加盟した。 23

問2 活火山や歴史的建造物などの観光資源が豊富である。一方で、近年はオーパーツリズムが問題となっており、その対策が進められている。2022年には同国初の女性首相が誕生した。 24

問3 徴兵制を基盤とする国民皆兵制を敷く永世中立国である。四つの公用語をもつ国としても知られ、時計や精密機器などの生産を行う高付加価値産業が盛んである。 25

(2) ヨーロッパの地理的事象について下の問4～問11に答えよ。

問4 「ガストアルバイター」と呼ばれる外国人労働者を受け入れてきた国として最も適切なものを、①～④の中から1つ選んでマークせよ。 26

- ①オランダ ②ドイツ ③ノルウェー ④ベルギー

問5 次の4か国のうち、2023年現在、日本との貿易額が最も多い国として最も適切なものを、①～④の中から1つ選んでマークせよ。 27

- ①オランダ ②チェコ ③ドイツ ④フランス

問6 スイスなどでみられ、定住地をもつ農民が家畜の群れを季節ごとに異なる場所へ移動させながら行う牧畜の一形態として最も適切なものを、①～④の中から1つ選んでマークせよ。 28

- ①移牧 ②企業的牧畜 ③遊牧 ④酪農

問7 ヨーロッパにおいてヒツジの頭数が最も多い国として最も適切なものを、①～④の中から1つ選んでマークせよ。 29

- ①イギリス ②イタリア ③フランス ④ルーマニア

問8 イギリス南西部からベネルクス3国、ドイツを経てイタリア北部にかけて各種工業が集積している地域の名称として最も適切なものを、①～④の中から1つ選んでマークせよ。 30

- ①サンベルト ②シリコンバレー
③ブルーバナナ ④マキラドーラ

問9 2022年現在、ヨーロッパにおいて各国の発電量に占める原子力発電の比率が最も高い国はフランスであるが、2番目に高い国として最も適切なものを、①～④の中から1つ選んでマークせよ。 31

- ①イギリス ②イタリア ③スウェーデン ④スペイン

問10 小地形とそれがみられる国の組合せとして適当でないものを、①～④の中から1つ選んでマークせよ。 32

- ①エスチュアリー：スイス ②ケスタ：フランス
③フィヨルド：ノルウェー ④リアス海岸：スペイン

問11 次の文章に該当する都市として最も適切なものを、①～④の中から1つ選んでマークせよ。 33

この都市では、1972年6月に「かけがえのない地球」をキャッチフレーズとする国連人間環境会議が開催された。1998年には二酸化炭素削減計画が策定されるなど、一人当たりの二酸化炭素排出量の削減（成果・計画）などが評価され、2010年から選考が行われ毎年1都市が受賞する「欧州グリーン首都賞」の最初の受賞都市となった。

- ①オスロ ②コペンハーゲン
③ストックホルム ④ロッテルダム